

ATOMIC ENERGY CENTRAL SCHOOL NO-2, RAWTABHATA

PERIODIC TEST – 2(SESSION 2021-22)

CLASS- III

SUBJECT- ENGLISH

TIME-90 MIN.

NAME OF THE STUDENT: _____ SECTION - _____ ROLL NUMBER: _____

TOTAL MARKS - 40

SIGN OF THE INVIGILATOR: _____

M. OBTAIN- _____

SIGN OF EXAMINER: _____

READING-5 MARKS

Q.1.A. Read the following passage and answer the following questions in one word or one sentence.

A mother tiger and her small tiger cub lived near a river in a shady jungle. When the sky was dark, the mother tiger hunted for deer and pig. But she did not hunt every night. The mother tiger liked to roar a loud.

A.1.What did the mother tiger like to do ?

1M

Ans: _____

A.2. Who was hunted for deer and pig?

1M

Ans: _____

A.3.Where did they live?

1M

Ans: _____

A.4. Write the correct answer

- i) Young one of tiger is called _____ 1/2M
- ii) Second form of **live** is _____ 1/2M

A.5. Choose the correct answer

- i) Opposite of **dark** is _____ 1/2M

a. Shady b. warm c. light d. heavy

- ii) Similar word of **close** is _____ 1/2M

a. far b. near c. fast d. very big

PROSE & POETRY-5 MARKS

(B) Read the following poem carefully and answer the questions given below.

Over the mountains,
Over the plains,
Over the rivers,
Here come the trains.
Carrying passengers,
Carrying mail,
Bringing their precious loads
In without fail.
Thousands of freight cars

All rushing on

Through day and darkness,

Through dusk and dawn.

B.1. Choose the correct answer.

($\frac{1}{2} \times 4 = 2$)

- a) The trains carry _____ and mail.
i) donkeys ii) passengers iii) buildings
- b) Trains have thousands of _____ cars.
i) freight ii) motor iii) racing
- c) Trains run through _____ and darkness.
i) month ii) week iii) day
- d) The beginning of the day is _____.
i) afternoon ii) dawn iii) noon

B.2. Fill in the blanks.

2M

- a) The time before it gets dark is _____.(rhymes with 'tusk')
- b) Opposite of come is _____.(rhyme with 'no')

B.3. Answer the following question .

1M

- a) If you had to spend the night on a train, what would you need to take with you?

Ans _____

CREATIVELWRITING-10 MARKS

Q.2.A.Look at the picture and write five sentences about it.(5Marks)



Q.2.B. Write a letter to your friend wishing him a happy new year.(5Marks)

GRAMMAR-10MARKS

Q.3.Do as directed.

a. Change the gender of the following: 1M

Uncle-_____

b. Choose the correct action word(verb) in the following sentence: 1M

He _____ to school with me.(go / goes)

c. Use can or can't in the following sentence: 1M

I _____ run faster than a car.

d. Make a sentence using the word 'close'. 1M

e. rabbit lives in a _____. (burrow /hive/den) 1M

f. Name the following. (1 × 2 = 2)

i) I mend your shoes. I am a _____ .

ii) I give wool. I am a _____ .

g. Choose the correct answer. ($\frac{1}{2} \times 2 = 1$)

i) One child, many _____ (*childs / children*)

ii) One fox, many _____ (*foxes / foxs*)

h. The animals / birds in column A have to reach their homes in column B. Match the column A to column B . ($\frac{1}{2} \times 4 = 2$)

Column A

Column B

A tiger

hive

A bee

burrow

A rabbit

web

A spider

den

VOCABULORY -5 MARKS

Q.4. Write the word starting with 'GR'. Clue is given.

1M

i) Color of grass is –G _ _ _ N

Q.5.Match the words with its meaning.

($\frac{1}{2} \times 4 = 2$)

i) naughty

a) lovely

ii) beautiful

b) silly and immature

iii) pounced

c) disobedient

iv) childish

d) made a sudden attack

Q.6.Write any two names of the following.

($\frac{1}{2} \times 4 = 2$)

Wild animals _____ , _____

Domestic animals _____ , _____

SPELLINGS – 5MARKS

Q.7.Rearrange the letters in proper order to form a meaningful word. 2M

a. O T M H R E = _____

b. O I N L = _____

Q.8.Fill in the blanks with correct letter. ($\frac{1}{2} \times 2 = 1$)

i) m o _ n t _ i n

ii) l e _ _ e _

Q.9.Circle the correct spelling. ($\frac{1}{2} \times 2 = 1$)

trein train trien trian

skodel scold skold sckold

Q.10. Circle the silent letters in the words given below. ($\frac{1}{2} \times 2 = 1$)

a) w h i s t l e

b) h o n o u r

परमाणु ऊर्जा केन्द्रीय विद्यालय क्रमांक 2, रावतभाटा

सामयिक परीक्षा २ (2021-22)

विषय : हिंदी कक्षा :३ समय : १:३० घंटा पूर्णांक : ४०

नाम _____ अनु० क्र० _____ दिनांक _____ प्राप्तांक :

निरीक्षक के हस्ताक्षर - _____ परीक्षक के हस्ताक्षर - _____

1. पठित गद्यांश को पढ़कर उत्तर दो । (5)

मीरा बहन का जन्म इंग्लैंड में हुआ था। गाँधी जी के विचारों का उन पर इतना असर हुआ कि वे अपना घर और अपने माता -पिता को छोड़कर भारत आ गई और गाँधी जी के साथ काम करने लगीं।

आज़ादी के पाँच साल बाद उन्होंने उत्तर प्रदेश के एक पहाड़ी गाँव, गेंवली में गोपाल आश्रम की स्थापना की। उस आश्रम में मीरा बहन का बहुत सारा समय पालतू पशुओं की देखभाल में बीतता था लेकिन गेंवली गाँव के आसपास के जंगलों में बाघ जैसे खतरनाक जानवर भी रहते थे।

क) मीरा बहन का जन्म कहाँ हुआ था?

ख) मीरा बहन किन्हें छोड़कर भारत आ गई?

ग) मीरा बहन ने किस आश्रम की स्थापना की?

घ) मीरा बहन का सारा समय किनकी देखभाल में बीतता था?

ड) विलोम शब्द लिखो।

पालतू -----

आज़ादी -----

2. अपठित गद्यांश को पढ़कर उत्तर दो । (5)

हर देश का अपना एक झंडा होता है। वह उस देश का प्रतीक होता है। हमारे देश का राष्ट्रीय झंडा 'तिरंगा' है। इसमें मुख्य तीन रंग हैं - केसरिया, सफ़ेद और हरा ।

सबसे ऊपर केसरिया रंग की पट्टी है, बीच में सफ़ेद रंग की पट्टी है और हरे रंग की पट्टी सबसे नीचे है। केसरिया रंग बलिदान का प्रतीक है। सफ़ेद रंग सच्चाई और शांति का प्रतीक है तथा हरा खुशहाली का प्रतीक है। हमारे देश का तिरंगा हमारी शान का प्रतीक है । झंडे के बीचों बीच एक चक्र है, जिसे 'अशोक चक्र' कहते हैं।

क) राष्ट्रीय झंडा तिरंगा किस देश का है?

ख) तिरंगे में कौन- कौन से रंग होते हैं?

ग) तिरंगे में सबसे ऊपर किस रंग की पट्टी होती है?

घ) सफ़ेद रंग किसका प्रतीक होता है?

ड.) 'अशोक चक्र' किसे कहते हैं?

3. आफंती या साँप के बारे में पांच वाक्य लिखो। (5)

4. दिए गए प्रश्नों के उत्तर लिखो। (5)

क) दोनों बिल्लियों के बीच झगड़े की जड़ क्या थी?

ख) गुरु जी थैली में क्या लिए जा रहे थे?

ग) सेठ कपड़ा लेने किस दिन आया होगा?

घ) पिंजड़ा बिना बाघ के बंद हो गया। कैसे?

ड.) तुम्हें किन - किन चीज़ों के पकने की महक अच्छी लगती है?

5. सही जोड़े मिलाओ -

(2)

कतई अवश्य

ज़रूर इरादा

हुनर बिल्कुल

मंसूबा कला

6. इस वाक्य को अपने ढंग से लिखो-

(1)

रखी मेज़ पर है वो रोटी।

7. नीचे के वाक्यों में कुछ हरी-भरी सब्जियों के नाम छुपे हैं उन्हें ढूंढो-

(2)

क) गोपाल कबूतर उड़ा दो।

ख) मामू लीला मौसी कहाँ है?

8. रोटी के कोई दो और नाम लिखो-

(2)

9. बाघ, गाय, बकरी और हाथी जानवर हैं। नीचे लिखी हुई चीज़ें क्या हैं?

(2)

क) बरगद, नीम, नारियल, पीपल _____

ख) गेहूँ, बाजरा, ज्वार, चावल _____

10. हम इन कामों के लिए कहाँ जाते हैं? (2)

क) जूते की मरम्मत करवाने _____

ख) बाल - कटवाने _____

11 सही शब्द चुनकर खाली जगह भरो- (2)

ने, में, से, का

क) पहाड़ी गाँवों में बाघ ___ डर बना रहता है।

ख) लता ___ सबको मूँगफली खिलाई।

ग) धूप ___ बैठकर ढोकला खाया।

घ) पुतुल ने काम करने ___ मना कर दिया।

12 पढ़ो, समझो और लिखो। (2)

उदाहरण- रंग - रंगाई

क) चढ़ - _____

ख) बुन - _____

ग) पढ़ - _____

घ) साफ़ - _____

13. दिए गए जानवरों को उनकी सही बोलियों से मिलाओ। (2)

जानवर	बोलियाँ
शेर	मिमियाना
कुत्ता	दहाड़ना
बकरी	हिनहिनाना
घोड़ा	भौंकना

14. सुलेख लिखो । (3)

पेड़ नीम का भी अच्छा है। उसकी दातुन बड़ी अच्छी रहती है। घर में कोई बीमार हो,
तो लोग नीम की टहनियाँ दरवाजे पर लटका देते हैं। मेरे पास नीम का पेड़ हो,
तो मैं उसकी टहनियाँ बेच सकता हूँ और पेड़ मुझे ठंडी छाया भी देगा।

ATOMIC ENERGY CENTRAL SCHOOL No.-2, RAWATBHATA

Periodic Test – 2 (2021-22)

Subject: Mathematics

Class – III

Time: 90 min

Date: _____

Name of the student: _____ Roll No: ____ Sec: ____ MO : ____

Invigilator's sign: _____ Examiner's sign: _____ MM : 40

Section A Knowledge (10 Marks)

Q1. Choose the correct answer and fill in the blanks.

1 x 4 =4

- a) If we add an even number to an odd number, we get an _____
number.(odd/even)
- b) 1Kg of _____ will require the bigger bag. (groundnuts, potatoes)
- c) 9 triangles will have _____ corners. (36 , 27)
- d) Twice of 48 litre is _____ litres .(50 , 96)

Q2. Do as directed.










2 x 3= 6

- a) Write the hidden secret message.

3I 3L3O3V3E 3M3Y 3I3N3D3I3A

AGBOCD EIFS HGIRKELAMT

b) Complete the patterns.

c) There are 14 desks in a classroom. Each desk has 4 legs. What is the total number of legs of the desks?

Section B Understanding(10 Marks)

Q3. Tick the correct answer.

$$1 \times 4 = 4$$

a) Which of the following names can be read both forward and backward in the same way?

- i) NAMAN ii) MANAN iii) MANISHA

b) Which of the following numbers will complete the pattern?

7, 14, 28 , 56, _____

- i) 63 ii) 112 iii) 136

c) Which of the following do we use to find the weight of things?

- i) a balance ii) a ruler iii) a measuring cylinder

d) How many bananas are there in 4 dozen?

- i) 84 ii) 48 iii) 24

Q4. Write all the even numbers between 585 and 593.

2x 1 =2

Q5. Arrange the following names in alphabetical order.

(4)

Shubham	<input type="text"/>	Manoj	<input type="text"/>
Girish	<input type="text"/>	Rachna	<input type="text"/>
Deepu	<input type="text"/>	Himank	<input type="text"/>
Jiya	<input type="text"/>	Vaani	<input type="text"/>

Section C Ability To Compute(10Marks)

Q6. Do as directed.

1x2=2

a) The weight of a watermelon is 6Kg. The weight of a papaya is 1Kg. How many such papayas can balance the watermelon?

b) There are 10 pencils in a box. How many pencils are there in 4 such boxes?

Q7. Do the following

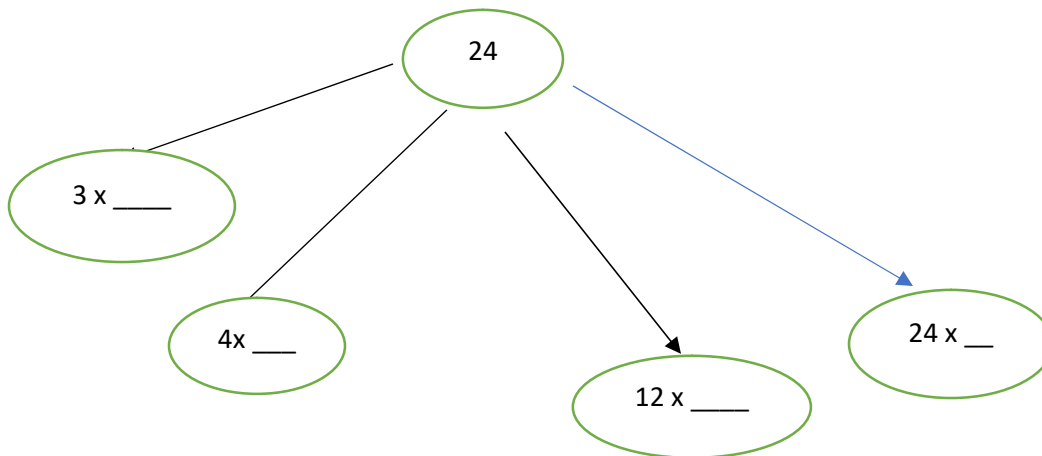
$2 \times 2 = 4$

a) Raju poured water 6 times with his water bottle to fill a pot. Sonu poured water 3times with his water bottle to fill the same size pot.

(i) Whose water bottle holds less water?

(ii) Raju's bottle can hold _____(twice/half)as much water as Soni's bottle.

b) Fill in the blanks.




Q8. Complete the multiplication by using box method.

(4)

42×12

$42 = 40 + 2$

$12 = 10 + 2$



$$\underline{\hspace{2cm}} + \underline{\hspace{2cm}} + \underline{\hspace{2cm}} + \underline{\hspace{2cm}} = \underline{\hspace{2cm}}$$

Section D Problem Solving Ability (10 Marks)

Q9. Fill in the blanks.

1x 4=4

a) $4 \times 3 = \underline{\hspace{2cm}}$.

b) 92, 94, 96, 98 $\underline{\hspace{2cm}}$


c) A1, B2, C3, $\underline{\hspace{2cm}}$, E5

d) $\underline{\hspace{2cm}}$ gram = half kilogram.

Q10. Do as directed.

2x 3=6

a. Match the following animals with their weight.



10 kg

25 kg

2 kg

800 kg

b. Neha counted legs of goats grazing in the field. There were 10 goats in all. How many legs were there altogether?

$$\begin{aligned} & 10 \text{ times } \underline{\hspace{2cm}} \\ & = \underline{\hspace{1cm}} \times \underline{\hspace{1cm}} \\ & = \underline{\hspace{2cm}} \text{ legs} \end{aligned}$$

c) Pothole A gets filled with 3 jugs of pebbles.

Pothole B gets filled with 6 jugs of pebbles. Pothole C
gets filled with 9 jugs of pebbles.

(i) Which is the smallest pothole?

(ii) If Pothole A gets filled with 4 jugs of pebbles, then Pothole B gets filled with
 jugs of pebbles.

ATOMIC ENERGY CENTRAL SCHOOL No.-2, RAWATBHATA

Periodic Test – II (2021-22)

Subject: EVS **Class – III** **Time:90 min** **Date: _____**

Name of the student : _____ **Roll No: _____** **Sec: _____** **MO : _____**

Invigilator's sign: _____ **Examiner's sign: _____** **MM : 40**

1. Choose the correct answer. (5)

1. We get sugar from _____ (Sugarcane/Neem).
2. There are _____ players are there in each Kabaddi team.(Seven/Three)
3. _____ provide us many herbal medicines.(plants/animals)
4. The clay-pit wanted a _____ to dig the soil.(trowel/pot)
5. _____ is a pet animal. (Dog/Lion)

2. Identify the picture (3)







3. Write the odd one out.

(3)

1. cement, pumpline, bricks,dustbin _____

2. electrician, painter, doctor, carpenter, mason _____

3. igloo, caravan, flat, car, hut _____

4. Order the sentences to make a pot from clay.

(5)

Dry the pot and bake it in a klin. ()

Using potters wheels shape the dough into a pot ()

Kneed the clay to make a dough. ()

Dry and sieve the clay to remove the stones. ()

Dig clay from the claypit. ()

UNDERSTANDING (12)

1. Fill in the blanks by selecting the correct words from the box given. (4)

letterbox	trunk	caravan	houseboats
-----------	-------	---------	------------

1. Letters are put in a _____ for being sent.
2. Elephants use their _____ to eat and drink.
3. A _____ is a house on wheels.
4. We can see many _____ on the Dal lake in Kashmir.

2. Match the following. (3)

Coloumn A	Column B
1. Bhanate	a. eats snakes
2. Eagle	b. used for talking over long distances
3. Telephone	c. wanted to eat Phudgudi's eggs.

3. Answer the following in one or two sentences. (5)

1. When we are blindfolded, how can we recognize others?

2. Who first thought of Braille books?

3. What did the river ask Bhanate to do?

4.What games did Chachi play in her childhood?

5.How many days did Reena’s letter take to reach Ahmed?

APPLICATION (12)

1.Write T for true and F for false statement. (5)

Clay pots are made stronger by baking them in fire. ()

Venu’s father helps Venu’s mother in household work. ()

Lemons are the root of lemon plant. ()

The Braille script is based on three points. ()

The river asked Phudgudi to get a pot to fill water. ()

2. Circle the games played with a ball. (3)

Basketball

Chess

Kabaddi

Football

Cricket

Volleyball

Table tennis

Hockey

3.Give reasons. (4)

a. Phudgudi was cleverer than Bhanate.

b. Bhanate wanted to wash his beak.
